

Nambari ya Mtahiniwa _____

SMZ
BARAZA LA MITIHANI LA ZANZIBAR
MTIHANI WA DARASA LA NNE
HISABATI

124

MUDA: SAA 2:30

JUMATATU 14 DISEMBA, 2020 ASUBUHI

MAELEKEZO KWA WATAHINIWA

- 1. Mtihani huu una sehemu MBILI (2) A na B.**
- 2. Jibu maswali YOTE kutoka sehemu A na B.**
- 3. Andika nambari yako ya mtihani katika kila ukurasa.**
- 4. Majibu YOTE yaandikwe katika nafasi zilizowekwa.**
- 5. Majibu yote yaandikwe kwa kalamu nyeusi au ya buluu.**
- 6. Simu za mkononi na vikokotozi haviruhusiwi ndani ya chumba cha mtihani.**

KWA MATUMIZI YA WASAHIHISHAJI					
NAMBARI YA SWALI	ALAMA	SAINI YA MSAHIHISHAJI	NAMBARI YA SWALI	ALAMA	SAINI YA MSAHIHISHAJI
1.			14.		
2.			15.		
3.			16.		
4.			17.		
5.			18.		
6.			19.		
7.			20.		
8.					
9.					
10.					
11.					
12.					
13.					
JUMLA					

Mtihani huu una kurasa 14 zenye maandishi

SEHEMU A: (Alama 60)

Jibu maswali YOTE katika sehemu hii.

NA	SWALI	SEHEMU YA KAZI NA JAWABU
1.	mita 8.45 – mita 1.81 = <input data-bbox="688 491 820 556" type="text"/>	
2.	Badilisha sehemu $\frac{3}{10}$ kuwa desimali.	

Nambari ya Mtahiniwa _____

3.	Usaili ulianza saa 4: 34 asubuhi na ulimaliza saa 5: 50 asubuhi. Jee, usaili ulitumia muda gani?	
4.	Utajumlisha nambari gani na 526 ili jawabu iwe 666?	

Nambari ya Mtahiniwa _____

5.	Ikiwa utaendesha baiskeli kilomita 8 kwa muda wa saa 1. Jee, ni masafa gani utaendesha baskeli kwa muda wa saa 2?	
6.	Zidisha $\begin{array}{r} 456 \\ \times 44 \\ \hline \\ \hline \end{array}$	

Nambari ya Mtahiniwa _____

7.	Jumlisha $5\frac{1}{2} + 6\frac{3}{2}$	
8.	Badilisha mita 67,000 kuwa kilomita.	

Nambari ya Mtahiniwa _____

9.	Kuna kilogramu ngapi kwenye gramu 56,000?	
10.	Rahisisha $2x + y + y + x + y + 3y.$	

Nambari ya Mtahiniwa _____

11.	Nauli ya daladala kwa kila abiria mmoja ni shilingi 400. Jee, kwa abiria 9 zitapatikana shilingi ngapi?																
12.	<table><thead><tr><th><i>Saa</i></th><th><i>Dakika</i></th><th><i>Sekunde</i></th></tr></thead><tbody><tr><td>12</td><td>15</td><td>9</td></tr><tr><td>– 2</td><td>18</td><td>39</td></tr><tr><td colspan="3"><hr/></td></tr><tr><td colspan="3"><hr/></td></tr></tbody></table>	<i>Saa</i>	<i>Dakika</i>	<i>Sekunde</i>	12	15	9	– 2	18	39	<hr/>			<hr/>			
<i>Saa</i>	<i>Dakika</i>	<i>Sekunde</i>															
12	15	9															
– 2	18	39															
<hr/>																	
<hr/>																	

Nambari ya Mtahiniwa _____

13.	Kuna mililita ngapi kwenye lita 1?	
14.	Toa 0.02 kwenye 0.78.	
15.	Mwezi gani katika mwaka una siku chache?	

SEHEMU B: (Alama 40)

Jibu maswali YOTE katika sehemu hii.

16. Asha alinunua bidhaa zenye bei zifuatazo:

- Chupa moja ya maji shilingi 1,000
- Mikate 20 ya boflo shilingi 3,000
- Paketi sita (6) za maziwa shilingi 9,000
- Kreti tatu (3) za soda shilingi 10,000

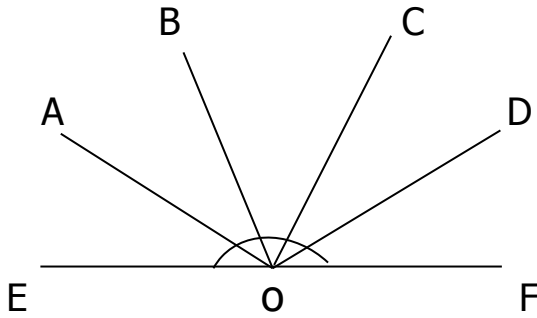
Ikiwa Asha alikua na shilingi 30,000. Jee, Asha alibakiwa na shilingi ngapi baada ya kununua bidhaa hizo?

JAWABU

Nambari ya Mtahiniwa _____

17.	<p>Fanya hesabu zifuatazo</p> <p>A $10 - 6 =$ B $8 + 7 =$</p> <p>C $22 - 16 =$ D $3 + 10 =$</p> <p>Kisanduku kipi chenye jawabu kubwa?</p>	
18.	a) i) Nini maana ya pembe?	

ii) Andika majina matano (5) ya pembe katika mchoro uliopo hapo chini.




b) Taja vifaa sita (6) vinavyotumika kuchorea pembe.


19. a) Shilingi 600,000/= ziligawiwa sawasawa kwa wafanyakazi 15. Jee kila mfanyakazi alipata shilingi ngapi?

b) Andika sehemu ya maumbo yaliyotiwa kivuli hapo chini.

A



B



Nambari ya Mtahiniwa _____

20. a) Nini maana ya uzani?

b) Bwana Ali alitoa mchele kilogramu 1000 kwa familia zilizopo kijijini. Ikiwa kila familia moja ilipata kilogramu 20. Jee, familia ngapi zilifaidika na mchango huo?

Nambari ya Mtahiniwa _____

KWA MATUMIZI YA RAFU